

**Adı-Soyadı:** Lütfen soruları yavaş ve dikkatli okuyun!



**GENEL DEĞERLENDİRME TESTİ**

**1)Aşağıdaki kelimelerin eş anlamlarını yanlarına yazınız**

kelime=                      ırak=                      al=                      hekim=  
ikaz=                      konut=                      düş=                      kırmızı=

**2)Aşağıdaki zıt anlamlı kelimelerden hangisi yanlış verilmiştir?**

a)gece/gündüz    b)katı/sıvı    c)savaş/harp    d)sağ/sol

**3)Aşağıdaki atasözlerinden hangisi doğru yazılmıştır?**

a)Üzüm üzüme baka baka sararır.b)Davulun sesi yakından hoş gelir.c)Kendi düşen ağlamaz.  
d)Gül komşuna,gelsin başına.

**4)Aşağıdaki sözcüklerden hangisi hecelerine doğru ayrılmıştır?**

a)Ay-ak-kab-ı    b)E-şof-manc)Uz-ak    d)Ka-ra-msar

**5)çantam-gittim-okula-mavi-Bugün-ile**


Yukarıda karışık verilmiş kelimelerle aşağıya düzgün bir cümle yazınız.

-


**6)Aşağıda verilen kelimelerden hangisinin yazımı yanlıştır?**

a)Klavuz    b)Domates    c)Zevkli    d)Mutfak


**7)Aşağıda verilen saatleri şekiller üzerinde gösteriniz**




12:15




17:40



21:25



07:10



03:00

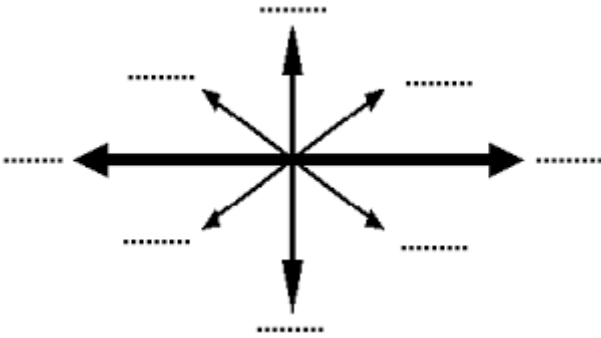
8) Aşağıya beş duyu organımızı yazınız.

.....

9)Aşağıda verilen boşluklarını doldurunuz.

Güneş .....doğar.Güneş.....batar.

10)Aşağıdaki şemaya ana yönlerimizi ve ara yönlerimizi yazınız.



11) Aşağıdakilerden hangisi acil durum numaralarından değildir?

a)112    b)155    c)138    d)110

12)Aşağıdakilerden hangisi T.C.Kimlik Kartımızda bulunan bilgilerden değildir?

a)T.C.Kimliknumarası    b)Ad-soyad    c)Dedemizin ismi    d)Doğum tarihimiz

13)Dedemin 80 tane tavuğu var.Dedem tavuklarının yarısını sattı kalan tavuklardan da 15 tanesini kesti.Dedemin kaç tavuğu kaldı?

a)24    b)25    c)26    d)27

14)Bir sinema salonunda 90 tane seyirciden 37'si kadın,24'ü erkek,digerleriçocuktur.Sinema salonunda kaç çocuk vardır?

a)25    b)27    c)29    d)31

15)Cüzdanımda 2 tane 20 TL,10 tane 1 TL,6 tane 50 kuruşum var.Cüzdanımdaki paranın 13 TL'sini harcadım.Geriye kaç TL kaldı?

a)53 b) 43 c) 40 d)30

16) Aşağıda verilen “cm”leri “m” olarak yazınız.

200 cm.....m eder.

500 cm.....m eder.

800 cm.....m eder.

[www.slaytyerim.com](http://www.slaytyerim.com)

